



GENEL YETENEK SORULARI

1) "Dürüstlük, bir insanda olması gereken en önemli özelliklerden birisidir. Her ne olursa olsun kişi dürüstlükten ayrılmamalıdır. Dürüst insan, çevresine güven verir, çevresi tarafından sevilir. Yalandan kazanacağına, dürüstlükten kaybetmeyi tercih etmelidir insan."

Yukarıdaki paragrafa göre, aşağıdakilerden hangisi söylenemez?

- A)dürüst insan etrafı tarafından sevilir.
- B) insan dürüstlükten asla vazgeçmemelidir.
- C)dürüstlük yalana karşı tercih edilmelidir.
- D)dürüst olmak, insanların bize güvenmesini sağlar.
- E)dürüst olmak bazen bizi zor durumda bırakır.

2) Aşağıdaki kelimelerin hangisi ismin "-de" hal ekini almamıştır?

- A) Manda
- B) Bahçede
- C) Oyunda
- D) Uykuda
- E) Evde

3) Aşağıdaki cümlelerin hangisinde kesme işareti (') yanlış yerde kullanılmıştır?

- A)Ankara'dan şimdi geldim.
- B)En büyük Türk Atatürk'tür.
- C)Ayşe'ler bu akşam bize gelecekler.
- D)Annem ve babam Almanya'dan izne geldi.
- E)Bana bu konuyu Hatice'nin kitabından anlattılar.

4) "Aydın'da hemen hemen tam bir ay kaldım."

Cümlesindeki anlatım bozukluğunun benzeri aşağıdakilerin hangisinde vardır?

- A) Genç kadının elinden çantasını çaldılar.
- B) Burası daha önceki yerden daha güvenlidir.
- C) iki konu arasında küçük de olsa bir ayrıntı var.
- D) Kesinlikle yolun uzun sürmediğini sanıyorum.
- E)Kahvaltıda çay ve kurabiye yedim.



5)

- 1.Emniyet kemerini bağlamadığı için yaralandı.
- 2.Sınıfın kapısını açıp koridora çıktı.
- 3.Annesini dinlediği için başarılı oldu.
- 4.Hızlı koştuğundan dolayı yarışı kazandı.
- 5.Bütün yıl oyun oynadığından başarılı olmadı.

Yukarıdaki cümlelerden hangisinde neden sonuç anlamı yoktur?

- A)5 B)4 C)3
D)2 E)1

6) Aşağıdaki cümlelerin hangisinde altı çizili sözcük bir kişi adının yerine kullanılmıştır?

- A) Q, hem çok cana yakın hem de dürüst.
B) Q evin en güzel yeri balkondur.
C) Q çocukta mükemmel bir yetenek var.
D) Q kızı buralarda ilk defa görüyorum.
E) Q arabayı bir daha görmedim.

7) Bu kocaman evrende yalnız olmayan canlılar kendi içerisinde bir türlü anlaşamazlar. Bu çatışma en çok hayvanlar içerisinde kendisini gösterir. Sürüngenler içerisinde yılan en fazla çatışma içerisinde olan gruptadır.

Yukarıdaki parçada altı çizili kelimeler arasında genelden özele doğru bir sıralama yapılırsa hangisi doğru olur?

- A)Evren-Canlı-Hayvan-Sürüngen-Yılan
B)Canlı-Hayvan-Evren-Yılan-Sürüngen
C)Hayvan-Sürüngen-Canlı-Yılan-Evren
D)Canlı-Hayvan-Sürüngen-Evren-Yılan
E)Yılan-Sürüngen-Hayvan-Canlı-Evren

8)"dal" sözcüğü aşağıdaki tümcelerin hangisinde farklı anlamda kullanılmıştır?

- A) Ağacın dalları meyveleri taşıyamıyordu.
B) Kuş ağacın dalına küçük bir yuva yapmıştı.
C) Gözleri uzaklara daldı gitti.
D) Meyve ağaçlarının kuruyan dallarını kesmek gerekir.
E) Yaşlı ağacın birçok dalı kırılmıştı.



9) "Doğru" sözcüğü hangi cümlede terim anlamıyla kullanılmıştır?

- A) Yaşlı adam evine doğru gitti.
- B) Bu konuda doğru söylediğine inanıyorum.
- C) İki noktadan yalnız bir doğru geçer.
- D) Doğru yoldan hiçbir zaman şaşma.
- E) Sen doğruyu söyle, gerisine karışma.

10) "Adam, bize için elinden geleni yapıyordu."

Cümlesindeki boş yerlere aşağıdaki sözcük çiftlerinden hangisinin getirilmesi en uygundur?

- A) üzüntüsünü - hissettirmemek
- B) korkularını - unutmak
- C) heyecanını - fakat
- D) saygısını - göstermemek
- E) endişelerini - yaşatmak

11) Aşağıdakilerin hangisinde eylemin zamanı farklıdır?

- A) Bu kış Uludağ'a gitmeyeceğiz.
- B) Bu tören çok güzel olacak.
- C) Ziyarete sen de gelecek misin?
- D) Öğretmen sınav yapmayacağını söylemiş.
- E) Önümüzdeki ay yapılacak olan geziye belki bizde katılırız.

12) Aşağıdaki cümlelerden hangisinde öznel bir anlatım yoktur?

- A) Masmavi denizi seyretmek insanları rahatlatır.
- B) Doğum günü pastasını herkes çok beğenecek.
- C) Siyah takım elbise sana daha çok yakıştı.
- D) Kaç defa söyledim ona; üzülme, bu dünya boş diye.
- E) Masanın üzerinde iki kalem birde karalanmış bir kağıt duruyordu.



13) "Sabahları spor yaparım." diyen birisi ne zaman spor yaptığını belirtmek istemiştir?

- A) Gelecekte
- B) Bazı zamanlar
- C) Geçmişte
- D) Her zaman
- E) Ara sıra

- 14)
- 1. dağ
 - 2. kavuşmaz
 - 3. kavuşur
 - 4. insan
 - 5. dağa
 - 6. insana

Yukarıdaki sözcükleri anlamlı ve kurallı bir cümle olacak şekilde sıralarsak, sıralama nasıl olmalıdır?

- A) 1 - 5 - 3 - 4 - 6 - 2
- B) 1 - 4 - 3 - 5 - 2 - 6
- C) 4 - 6 - 3 - 2 - 5 - 1
- D) 1 - 5 - 2 - 4 - 6 - 3
- E) 1 - 2 - 5 - 4 - 6 - 3

15) Aşağıdaki cümlelerin hangisinde "burun" sözcüğü gerçek anlamda kullanılmıştır?

- A) Çok para kazanınca burnu büyüdü.
- B) Berke tatilde burnumdan getirdi.
- C) Babam burnundan ameliyat oldu.
- D) Eve geç gelince annem burnundan soludu.
- E) Ölümle burun buruna gelmişti.

16) Sınıfımızdaki kapının yüksekliği aşağıdakilerden hangisi olabilir?

- A) 2 mm
- B) 2 cm
- C) 2 m
- D) 2 hm
- E) 2 km

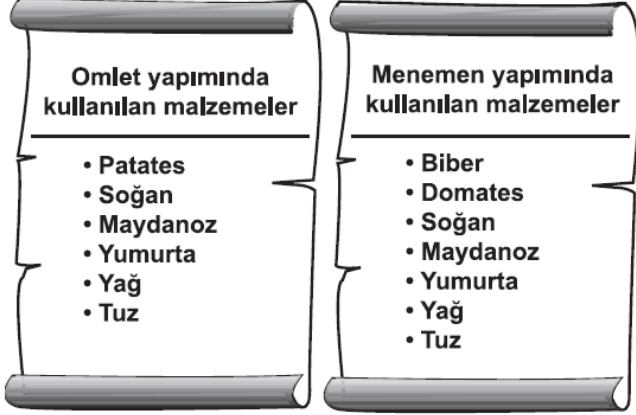
17) Bir kitabın son iki sayfasının numaralarının toplamları 211 olduğuna göre bu kitabın son sayfa numarası kaçtır?

- A) 105
- B) 106
- C) 107
- D) 205
- E) 211



ABDULLAH HAKAN TANGÜLÜ ÖZEL EĞİTİM MESLEKİ EĞİTİM MERKEZİ(OKULU)
EKPS(engelli kamu personeli seçme sınavı)
"ZİHİN ENGELLİLER - ORTA ÖĞRETİM-" DENEME SINAVI -1-

18)



Omlet yapımında kullanılan malzemelerin kümesi A, menemen yapımında kullanılan malzemelerin kümesi B olsun. Buna göre, elemanı sadece patates olan küme aşağıdakilerden hangisidir?

- A) $A - B$ B) $B - A$
C) $A \cap B$ D) $A \cup B$

19) İki kardeşin yaşlarının toplamı 25' dir. İki kardeşin 8 yıl sonra yaşlarının toplamı kaç olur?

- A) 41 B) 36 C) 33
D) 17 E) 22

20) 7 düzine kalemin 54 tanesi satılınca geriye kaç deste kalem kalır?

- A) 30 B) 3 C) 5
D) 10 E) 15

21) 120 dk+45dk+15dk kaç saat eder?

- A) 2 B) 3 C) 4
D) 2,5 E) 5

22) "2,69 - 2,009 - 2,500 - 3,001 - 2,7" ondalık kesirlerinin büyükten küçüğe doğru sıralanışı aşağıdakilerden hangisidir?

- A) 3,001 - 2,009 - 2,500 - 2,69 - 2,7
B) 3,001 - 2,7 - 2,69 - 2,500 - 2,009
C) 3,001 - 2,69 - 2,500 - 2,009 - 2,7
D) 3,001 - 2,7 - 2,009 - 2,500 - 2,69
E) 3,001 - 2,009 - 2,7 - 2,69 - 2,50

23)

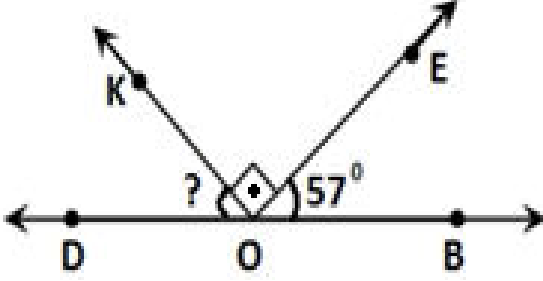


Benzin göstergesi şekildeki gibi olan bir aracın deposunda 23,4 litre benzin vardır. İbre sıfır gösterdiğinde aracın deposu boş olduğuna göre, bu aracın deposu kaç litreliktir?

- A) 56 B) 60,2 C) 62,4 D) 64



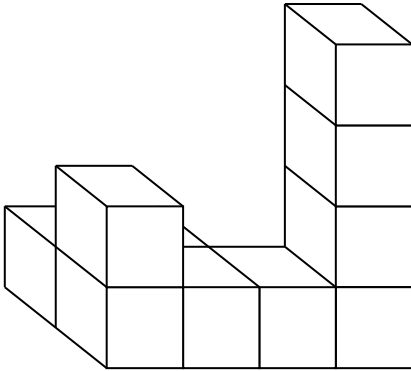
24)



Yukarıdaki üçgende $s(\text{EOP}) = 57^\circ$ olduğuna göre $s(\text{KOD})$ açısı kaç derecedir?

- A)137 B) 117 C) 123
D) 33 E) 147

25)



Yandaki yapı, birbirine eşit birim küplerden oluşmuştur. Buna göre kullanılan birim küp sayısı aşağıdakilerden hangisidir?

- A) 8 B) 9 C) 10
D) 11 E) 12

26) 525 sayısındaki rakamların basamak değerleri toplamı ile sayı değerleri toplamı arasındaki fark aşağıdakilerden hangisidir?

- A) 513 B) 521
C) 523 D) 527
E) 531

27) " 9 " tuşu bozuk olan bir hesap makinesinin ekranında " 699 " yazması için hesap makinesinde aşağıdaki işlemlerden hangisi yapılmalıdır?

- A) $821 - 122$ B) $789 - 90$
C) $708 - 9$ D) $690 + 9$
E) $698 + 1$


28) Metin'e pantolon, ayakkabı ve gömlek alan annesi, satıcıya 120 lira ödedi. Pantolonun fiyatı 40 lira, ayakkabının fiyatı, pantolonun fiyatından 10 lira fazla olduğuna göre gömleğin fiyatı kaç liradır?


- A) 20 B) 30 C) 40
D) 50 E) 60





29)

Aşağıdaki öğrencilerin söylediği sayılardan hangisi en yakın onluğa yuvarlandığında diğerlerinden farklı bir sayı elde edilir?

A)  5716

B)  5724

C)  5719

D)  5725

30) "475 > 457" ifadesinin okunuşu aşağıdakilerden hangisidir?

- A) 475 küçüktür 457'den
- B) 475 eşittir 457'ye
- C) 475 büyüktür 457'den
- D) 457 büyüktür 475'ten
- E) 457 küçüktür 475'ten

Genel Yetenek Testi Bitti...
Lütfen Genel Kültür Testine Geçiniz.

GENEL KÜLTÜR SORULARI

1-) "Mustafa Kemal öğrenim hayatına başlayıp, Şemsi Efendi Mektebinde devam etmiştir."

Yukarıda verilen cümlenin doğru olabilmesi için boş bırakılan yere aşağıda verilenlerden hangisi yazılmalıdır?

- A) Mahalle Mektebinde
- B) Selanik Askeri Ortaokulunda
- C) İstanbul Harp Akademisinde
- D) Manastır Askeri Lisesinde
- E) İstanbul Harp Okulunda

2-Aşağıda verilen isimlerden hangisi Atatürk'ün kız kardeşinin adıdır?

- A) Afet Hanım
- B) Latife Hanım
- C) Halide Hanım
- D) Makbule Hanım
- E) Zübeyde Hanım

3-Atatürk'ün naaşı (cenazesi) için geçici kabir olarak aşağıdakilerden hangisi kullanılmıştır?

- A) Anıtkabir
- B) Dolmabahçe Sarayı
- C) Etnografya Müzesi
- D) Topkapı Sarayı Müzesi
- E) Anadolu Medeniyetleri Müzesi



4-İstanbul'a geldiğinde İtilaf Devletleri donanmasının Dolmabahçe Sarayı önünde demirlediğini gören Mustafa Kemal, tepkisini aşağıdaki sözlerden hangisini söyleyerek göstermiştir?

- A) "Geldikleri gibi giderler."
- B) "Yurtta barış dünyada barış."
- C) "Ne mutlu Türküm diyene."
- D) "Adalet mülkün temelidir."
- E) "Bir Türk dünyaya bedeldir."

5- Aşağıdakilerden hangisi I. Balkan Savaşı'nda Osmanlı Devleti'ne karşı savaşan devletlerden biri değildir?

- A) Karadağ
- B) Romanya
- C) Bulgaristan
- D) Sırbistan
- E) Yunanistan

6-

I- Boğazları ele geçirmek

II- İstanbul'u işgal edip, Osmanlı Devleti'ni savaş dışı bırakmak

III- Rusya'ya ekonomik ve askerî yardım yapmak

IV- Osmanlı Devleti ile Almanya'nın bağlantısını kesmek

İtilaf Devletleri Çanakkale Cephesi'ni yukarıdaki amaçlardan hangilerini gerçekleştirmek amacıyla açmışlardır?

- A) Yalnız II
- B) I - II
- C) II - III - IV
- D) I - III
- E) I - II - III -IV

7-Aşağıdaki cemiyetlerden hangisi Çukurova Bölgesi'nin(Adana ve çevresi) Fransızlar ve Ermeniler tarafından işgal edilmesini önlemek amacıyla kurulmuştur?

- A) Mavri Mira Cemiyeti
- B) Milli Kongre Cemiyeti
- C) Teali İslam Cemiyeti
- D) Kilikyalılar Cemiyeti
- E) İzmir Redd-i İlhak Cemiyeti

8-Kurtuluş Savaşı'nın Doğu Cephesi komutanı aşağıdakilerden hangisidir?

- A) Refet Bele
- B) Enver Paşa
- C) Rauf Orbay
- D) Kâzım Karabekir
- E) Ali Fuat Cebesoy

9-Kurtuluş Savaşının amacı, gerekçesi ve yöntemi aşağıda verilen gelişmelerin hangisinde açıkça belirtilmiştir?

- A) Havza Genelgesi
- B) Amasya Genelgesi
- C) Erzurum Kongresi
- D) Sivas Kongresi
- E) TBMM'nin açılması



10-Atatürk'ün yaptığı bütün yenilikler, aşağıdaki ilkelerden hangisiyle ilişkilidir?

- A)İnkılâpçılıkla
- B)Devletçilikle
- C)Cumhuriyetçilikle
- D)Halkçılıkla
- E)Laiklikle

11-“Vatan savunmasına ait görevlerden daha önemli ve yüce bir görev olamaz.”

ATATÜRK

Atatürk, bu sözünde aşağıdaki hangi görevleri işaret etmektedir?

- A) Vergi ödemek
- B) Askerlik yapmak
- C) Seçimlere katılmak
- D) Yükseköğrenim yapmak
- E) Kanunlara uymak

12-Mehmet Akif Ersoy, yazdığı İstiklal marşını kime ithaf (armağan) etmiştir?

- A)Türk milletine
- B)Öğretmenlere
- C)Türk ordusuna
- D)Türk gençliğine
- E) Dünya milletlerine

13-T.C. Anayasası'nın ilk üç maddesinde hangisi belirtilmiştir?

- A)Vatandaşların hak ve görevleri
- B) Devletin temel amaç ve görevleri
- C) Anayasanın değiştirilemez nitelikleri
- D)Yasama, yürütme, yargı yetkileri ve görevleri
- E) İnsan haklarının önemi

14- Ülkemizde milletvekili seçilebilmek için en az kaç yaşında olmak gerekir?

- A)18
- B)20
- C)25
- D)30
- E)40

15- “Tarihimizde öyle kahramanlar vardır ki; yıllar geçse de isimleri unutulmayacaktır.”

Aşağıda verilen isimlerden hangisi yukarıdaki paragrafla ilgili değildir?

- A)Nene HATUN
- B)Ömer HALİSDEMİR
- C)Fethi SEKİN
- D)Sütçü İMAM
- E)Metin Ali AYDIN



16- Meslek seçiminden önce kendimize sormamız gereken ilk soru aşağıdakilerden hangisi olmalıdır?

- A)Kaç lira para kazanacağım?
- B)Ben hangi işi yaparsam mutlu olurum?
- C)Hangi arkadaşımın mücevher işine girsem?
- D)Babam ve annem benim ne olmamı ister?
- E)Gelecekte hangi meslekler daha çok tercih edilecek?

17)

Merhaba Mustafa! Nasılsın? ①

İyiyim, sen nasılsın? Hava nasıl? ②

Mesut (Adana)

Mustafa (Erzurum)

Çok iyiyim. Buğdayı hasat ettik. Bu yıl verim yüksek oldu. Tarlayı ikinci ürün için hazırlıyoruz. ③

Ne güzel! Bizim burada buğdayların olgunlaşmasına daha çok var. Biz hâlâ sobayı yakıyoruz. Herhâlde sizin orada denize giriliyordur. ④

Mesut

Mustafa

Verilen diyaloga bakarak Mustafa'nın yaşadığı yer için aşağıdakilerden hangisi söylenebilir?

- A) Kış mevsiminin soğuk ve uzun sürdüğü
- B) Dağlık yerleşmelerin yaygın olduğu
- C) Makineli tarımın gelişmiş olduğu
- D) Bitki örtüsünün makilerden oluştuğu

18)



Verilen şemada (?) ile belirtilen yere aşağıdakilerden hangisi yazılmalıdır?

- A) Orhun Yazıtları
- B) Ergenekon Destanı
- C) Karabalgasun Yazıtı
- D) Uygur Duvar Resimleri

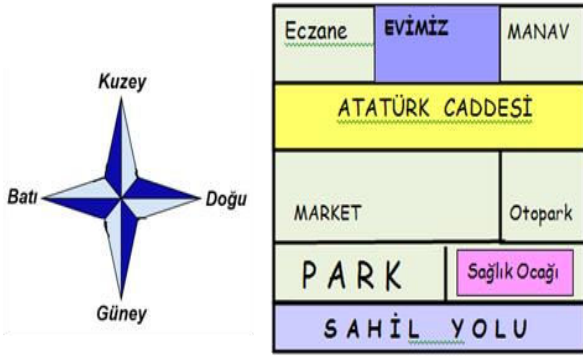
19) Ali Bey evinin iç ve dış duvarlarında ısı akışını yavaşlatmak için yalıtım malzemesi kullanıyor. Yalıtım malzemesinin kullanılmasının Ali Bey'e öncelikle sağlayacağı fayda aşağıdakilerden hangisidir?

- A)Evini uzun ömürlü yapması
- B)Doğal afetlere karşı koruması
- C)Kirli havanın içeri girmesini engellemesi
- D)Evinin dış cephesinin güzel görünmesi
- E)Isıtma ve soğutma giderlerini azaltması



ABDULLAH HAKAN TANGÜLÜ ÖZEL EĞİTİM MESLEKİ EĞİTİM MERKEZİ(OKULU)
EKPSS(engelli kamu personeli seçme sınavı)
"ZİHİN ENGELLİLER - ORTA ÖĞRETİM-" DENEME SINAVI -1-

20)



Yukarıdaki krokiye göre aşağıdakilerden hangisi doğrudur?

- A) Evimiz eczanenin doğusundadır.
- B) Market evimizin kuzeyindedir.
- C) Sağlık ocağı parkın batısındadır.
- D) Atatürk Caddesi Parkın güneyindedir.
- E) Otopark marketin batısındadır.

21) Aşağıdaki enerji kaynaklarından hangisinin kullanımı doğal çevreye daha az zarar verir?

- A) Petrol
- B) Linyit
- C) Doğal Gaz
- D) Güneş Enerjisi
- E) Kömür

22) "Toprak, su, orman ve maden doğal kaynaklarımızdır. Ülke ekonomimize çeşitli şekillerde katkıda bulunurlar." Aşağıdakilerden hangisi doğal kaynaklarımızdan toprak ile yapılan faaliyetlerden birisi değildir?

- A) Meyve Üretimi
- B) Pamuk Üretimi
- C) Elektrik Üretimi
- D) Seramik Üretimi
- E) Tahıl üretimi

23) Ülkemizde çıkarılan petrolün tamamına yakını hangi bölgemizde çıkarılır?

- A) Doğu Anadolu Bölgesi
- B) Güney Doğu Anadolu Bölgesi
- C) Marmara Bölgesi
- D) Ege Bölgesi
- E) İç Anadolu Bölgesi

24) Aşağıdakilerden hangisi 2017 yılında kaybettiğimiz dünya ve olimpiyat şampiyonu haltercimizdir?

- A) Naim SÜLEYMANOĞLU
- B) Halil MUTLU
- C) Sinan Şamil SAM
- D) Münir ÖZKUL
- E) Yakup KILIÇ



25)Bozkır bitki örtüsünün olduğu bir yerde hangi hayvancılık türü yaygın olarak yapılır?



A) Küçükbaş hayvancılık



B) Büyükbaş hayvancılık



C)Arıcılık



D)İpek böcekçiliği



E) Kümes hayvancılığı

26) "Bir doğal afet ile doğal afetin görüldüğü bölge, bölgenin coğrafi özelliği ve iklimi arasında yakından ilişki vardır."

Yukarıdaki bilgiyi göz önünde bulundurursak afetler ve en çok görüldüğü bölgelerin eşleştirilmesinde aşağıdakilerden hangisi yanlış olarak verilmiştir?

- A) Sel – Karadeniz Bölgesi
- B) Çığ – Doğu Anadolu Bölgesi
- C) Erozyon – İç Anadolu Bölgesi
- D) Heyelan – Karadeniz Bölgesi
- E) Deprem – İç Anadolu Bölgesi

27) "EKPSS (engelli kamu personeli seçme sınavı) engelli memur adaylarının katıldığı bir seçme sınavıdır."

Buna göre EKPSS hakkında aşağıda verilen bilgilerden hangisi yanlıştır?

- A)EKPSS 2 yılda bir yapılır.
- B) EKPSS'nin geçerlilik süresi 2 yıldan 4 yıla çıkartılmıştır.
- C)EKPSS'ye girmek için en az % 40 engelli raporu sahibi olmak gerekir.
- D) EKPSS, ÖSYM Başkanlığı tarafından yapılır.
- E) EKPSS'ye ilkokul/ortaokul mezunları da girebilir.



28) Boğaziçi Köprüsü ve Fatih Sultan Mehmet Köprüsü'nden sonra İstanbul'a yapılan 3.köprünün ismi aşağıdakilerden hangisidir?

- A) Galata Köprüsü
- B) Yavuz Sultan Selim Köprüsü
- C) Kömürhan Köprüsü
- D) Kanuni Sultan Süleyman Köprüsü
- E) Atatürk Köprüsü

29) İnsanlık tarihini değiştiren önemli olaylar, icatlar ve buluşlar sıralandığında aşağıdakilerden hangisi diğerlerine göre ilk sırayı alır?

- A) Tekerleğin icadı
- B) Yazının icadı
- C) Kavimler göçü
- D) Kâğıdın bulunuşu
- E) İstanbul'un Fethi

30) "Ankara'nın Kazan ilçesinin adınde halkının gösterdiği kahramanlık nedeniyle "Kahramankazan" olarak değiştirilmiştir."

Yukarıdaki noktalı yere aşağıdakilerden hangisini yazdığımızda paragraf doğru bir şekilde tamamlanmış olur?

- A) Kurtuluş Savaşı
- B) Sakarya Savaşı
- C) 15 Temmuz darbe girişimi
- D) Çanakkale Savaşı
- E) Cumhuriyetin İlanı

Test Bitti...
Lütfen Cevaplarınızı Kontrol Ediniz...



ABDULLAH HAKAN TANGÜLÜ ÖZEL EĞİTİM MESLEKİ EĞİTİM MERKEZİ(OKULU)
EKPS (engelli kamu personeli seçme sınavı)
"ZİHİN ENGELLİLER - ORTA ÖĞRETİM-" DENEME SINAVI -1-

EKPSS DENEME SINAVI -1- CEVAP ANAHTARI (10.01.2018)				
GENEL YETENEK			GENEL KÜLTÜR	
1	E		1	A
2	A		2	D
3	C		3	C
4	D		4	A
5	D		5	B
6	A		6	E
7	A		7	D
8	C		8	D
9	C		9	B
10	A		10	A
11	D		11	B
12	E		12	C
13	D		13	C
14	D		14	A
15	C		15	E
16	C		16	B
17	B		17	A
18	A		18	A
19	A		19	E
20	B		20	A
21	B		21	D
22	B		22	C
23	C		23	B
24	D		24	A
25	C		25	A
26	A		26	E
27	A		27	E
28	B		28	B
29	D		29	B
30	C		30	C